

به نام خدا

نام و نام خانوادگی:

اردیبهشت ریاضی چهارم

www.elmgram.ir

عدد ۵۱۳۴۷۹۲۶۸ را در نظر بگیرید. به حروف بنویسید:.....

چند رقمی است؟ رقم ۷ چه رتبه ای دارد؟ رتبه یا ارزش بزرگترین رقم آن چیست؟

به حروف و رقم بنویسید. الف) سیصد و چهارمیلیون و پانصد هزار و سه : ب) پانصد و هفت و پنج دهم : ج) ۱۲/۳ : د) ۲۳/۱۴ :

جمع و تفریق کنید. $1 - 0.7 =$ $2/8 + 1/3 =$ $1/7 + 4/3 =$

به جای مربع عدد مناسب بنویس.

$\frac{9}{\square} = \frac{3}{6}$ $\frac{\square}{7} = \frac{16}{28}$ $\frac{7}{8} = \frac{\square}{40}$ $\frac{6}{9} = \frac{2}{\square}$

$\frac{3}{4} + \frac{9}{20} =$

$\frac{3}{4} - \frac{3}{8} =$

حاصل ضرب های زیر را بدست بیاور.

$$\begin{array}{r} 1467 \\ \times 4 \\ \hline \end{array}$$

$$\begin{array}{r} 436 \\ \times 75 \\ \hline \end{array}$$

تقسیم زیر را انجام بده و باقی مانده و خارج قسمت را مشخص کن.

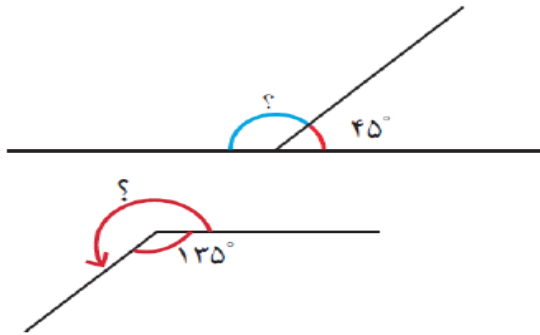
$$7065 \overline{) 21}$$

باقی مانده خارج قسمت

رابطه تقسیم را بنویس.

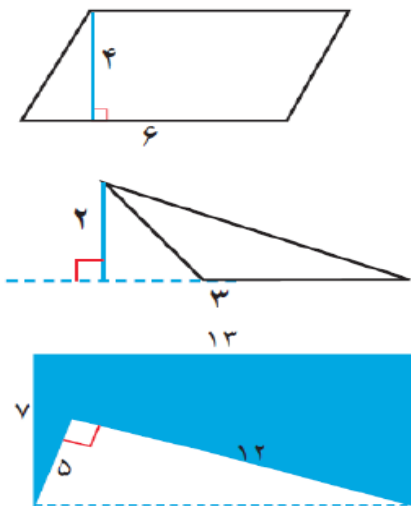
اندازه زاویه هارا بنویسید.

$$\square + 45^\circ = 180^\circ$$



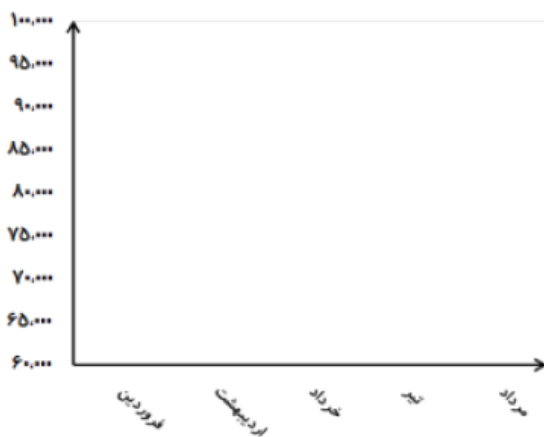
$$\square + 135^\circ = 360^\circ$$

مساحت شکل های داده شده را بنویسید.



قیمت هر گرم طلای ۱۸ عیار در ۵ ماه اول سال ۱۳۹۳ به صورت زیر می باشد.

ماه	فروردین	اردیبهشت	خرداد	تیر	مرداد
قیمت(تومان)	۹۶۰۰۰	۷۸۰۰۰	۷۲۰۰۰	۸۰۰۰۰	۸۸۰۰۰



الف) نمودار خط شکسته‌ی آن را رسم کنید.

ب) در بین کدام ماه ها تغییرات قیمت طلا از همه بیشتر بوده است؟

ج) در این نمودار معنی چیست؟

باز خورد: