

باسمه تعالی

تاریخ: ۹۷/۱۰/۳

مدرسه ۹ دی

نام و نام خانوادگی:

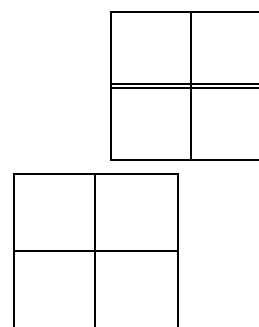
آموزگار: عارف منش

کلاس: سوم

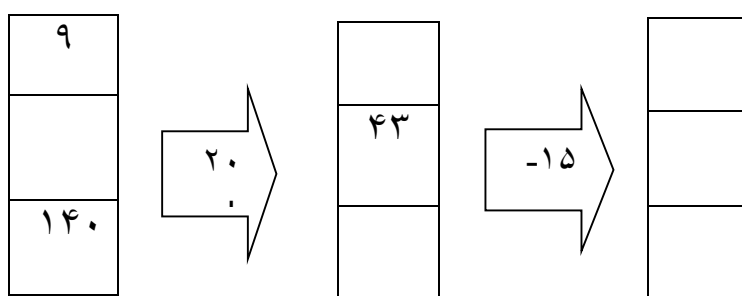
۱- برای شمارش مربع های شکل زیر از جمع و الگو استفاده کنید .

جمع:

الگو:



۲- جاهای خالی را با اعداد مناسب پر کنید .

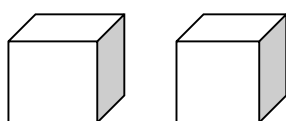


۳- زمان ساعت هارا به دو صورت بنویسید.

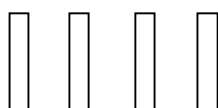
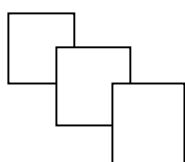


۴- با توجه به شکل جدول را کامل کرده و با عدد و حروف بنویسید.

به عدد به حروف



یکان	دهگان	صدگان	هزارگان



۵- جاهای خالی را پر کنید .

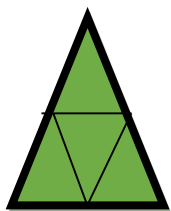
۵۳۲۱ یعنی یکی ، دهتایی ، صدتایی و هزارتایی .

۴۲۰ سانتی متر متر و سانتی متر است .

۲۷۰۰ گرم کیلوگرم و گرم است .

۳ کیلوگرم و ۲۵۰ گرم یعنی گرم .

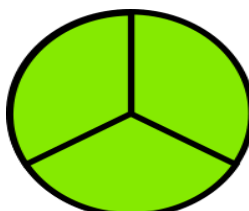
۶- شکل های زیر چه کسری را نشان می دهند .



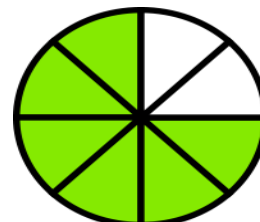
.....



.....



.....




.....

۲ واحد و —




۲ واحد و —

۷- مقایسه کنید .



۸- با کامل کردن شکل نشان دهید .



۹- زاویه های شکل هارا نشان دهید وزاویه راست را مشخص کنید .



۱۰- با استفاده از پرگار دایره ای به شعاع ۲ سانتی متر بکشید و شعاع و قطر آن را مشخص کنید .

..... شعاع

..... قطر