

به نام خدا


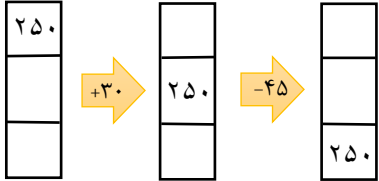

تاریخ آزمون : ۱۳۹۹/۰۷/۲۴

مدت آزمون : توسط اولیا تنظیم شود.

نام :

نام خانوادگی :

کلاس : سوم ۳

ردیف	آزمون اول ریاضی	بازخورد												
۱	الگوهای عددی زیر را کامل کن. (الف) ..... ، ..... ، ..... ، ..... ، ..... ، ..... ، ۲۱ ، ۱۴ ، ۷ ، ۰ (ب) ..... ، ..... ، ..... ، ..... ، ..... ، ..... ، ۲۸ ، ۲۴ ، ۲۱ ، ۱۹ (پ) ..... ، ..... ، ..... ، ..... ، ..... ، ..... ، ۲۰۰ ، ۲۴۰ ، ۲۸۰ (ت) ..... ، ..... ، ..... ، ..... ، ..... ، ..... ، ۷۸ ، ۸۳ ، ۸۷ ، ۹۰													
۲	تعداد مربع های زیر را به روش شمارش چند تا چند تا به دست بیاور. 													
۳	ماشین ورودی و خروجی روبه رو را کامل کن. 													
۴	جدول زیر را پر کن . <table border="1" data-bbox="143 1467 1452 1624"><tr><td>۹ بعداز ظهر</td><td></td><td>۱ بعداز ظهر</td><td></td><td>۸ بعداز ظهر</td><td></td></tr><tr><td></td><td>۱۷</td><td></td><td>۲۳</td><td></td><td>۱۵</td></tr></table>	۹ بعداز ظهر		۱ بعداز ظهر		۸ بعداز ظهر			۱۷		۲۳		۱۵	
۹ بعداز ظهر		۱ بعداز ظهر		۸ بعداز ظهر										
	۱۷		۲۳		۱۵									
۵	خط تقارن شکل های زیر را رسم کن و تعداد آنها را در زیر هر شکل بنویس. 													
		بازخورد:												