

به نام خدا

نام:

مدرسه: حاج اسد اله امید ۱

امتحان: ریاضی

نام خانوادگی:

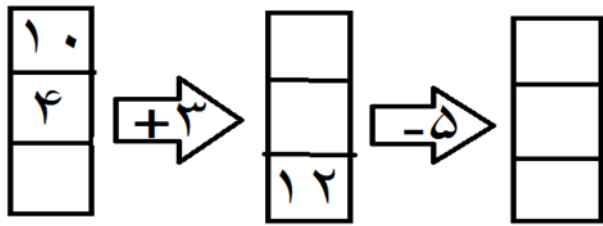
کلاس: سوم ۲

تاریخ: دی ماه ۹۸

۱- الگوهای عددی زیر را ادامه دهید.

۱	۴	۷	۱۰
۳۵	۳۰	۲۵	۲۰

۲- با توجه به کاری که هر ماشین انجام می دهد در جاهای خالی عدد مناسب بنویسید.



۳- گزینه درست را انتخاب کنید.

الف) ساعت ۴ بعد از ظهر برابر است با:

ساعت ۱۷

ساعت ۱۶

ساعت ۱۵

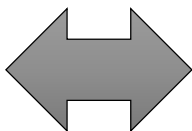
ب) ساعت ۲۲ برابر است با ساعت:

۱۰ بعد از ظهر

۱۰ قبل از ظهر

۱۲ بعد از ظهر

ج) شکل مقابل چند خط تقارن دارد؟



چهار خط

دو خط

یک خط

د) عدد چهار هزار و هفتصد و نه کدام مورد است؟

۴۷۹۰

۴۷۰۹

۴۰۷۹

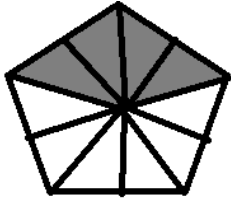
۴- عددهای داخل دایره به کدام یک از مربع ها نزدیک تر است؟ آنها را نوشته و رنگ بزنید.



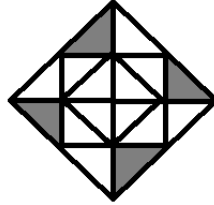
۵- جاهای خالی را پر کنید. الف) ۴۶۰۰ کیلو گرم یعنی کیلو گرم و گرم

ب) ۵۶۰۰ ریال برابر است با تومان.

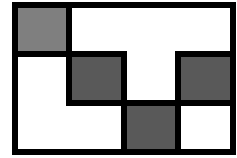
۶- برای هر شکل، کسر مناسب بنویسید.



.....



.....

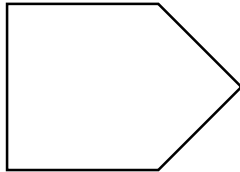


.....

۷- با توجه به هر شکل به سوالات پاسخ دهید.

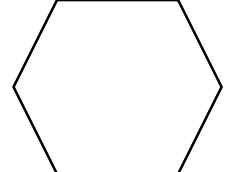
چند زاویه دارد؟

چند زاویه راست دارد؟




چند زاویه دارد؟


چند زاویه راست دارد؟




۸- در دایره (الف) مرکز دایره و در دایره (ب) شعاع دایره و در دایره (ج) قطر دایره را مشخص کنید.



ج: قطر دایره



ب: شعاع دایره



الف: مرکز دایره

۹- کسرهای زیر را با هم مقایسه کنید. < = >


$$\frac{3}{3} \bigcirc \frac{4}{4}$$

$$\frac{5}{7} \bigcirc \frac{5}{8}$$

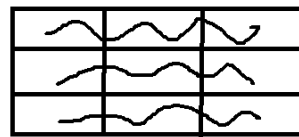
$$\frac{4}{6} \bigcirc \frac{3}{6}$$

$$\frac{3}{9} \bigcirc \frac{3}{4}$$

۱۰- برای هر یک از شکل های زیر یک ضرب بنویسید.



$$\dots \times \dots = \dots$$



$$\dots \times \dots = \dots$$

۱۱- پاسخ ضرب های زیر را بنویسید.

$$2 \times 8 =$$

$$3 \times 7 =$$

$$6 \times 4 =$$

$$5 \times 0 =$$

$$6 \times 6 =$$

$$7 \times 9 =$$

$$8 \times 9 =$$

$$9 \times 1 =$$

موفق و پیروز باشید - خوشدل

باز خورد معلم: