

به نام خدا

نام:

مدرسه: حاج اسد اله امید ۱

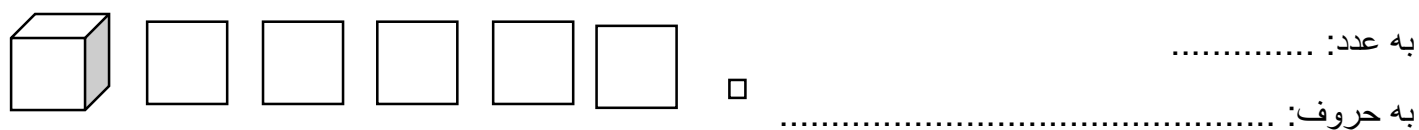
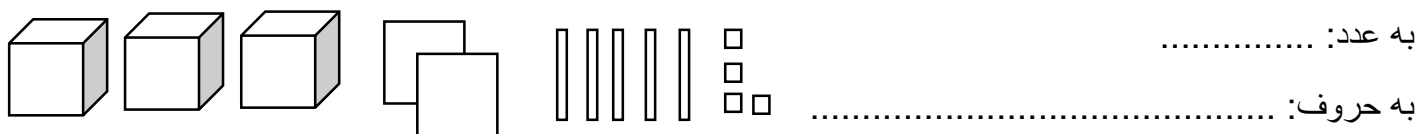
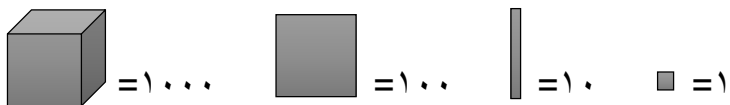
امتحان: ریاضی

نام خانوادگی:

کلاس: سوم ۲

تاریخ: نیمه دوم آذر ۹۸

۱- هر شکل چه عددی را نشان می دهد.



$4324 - 2121 =$

۲- با استفاده از رسم شکل، تفریق مقابل را انجام دهید.

۳- همه ی عددهای سه رقمی که رقم های یکان آن ها ۳ یا ۵ و رقم دهگان آن ها ۴ و رقم صدگان آن ها ۹ یا ۲ باشد را بنویسید.

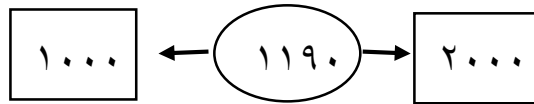
یکان	دهگان	صدگان	هزارگان

۴- عددهای زیر را بصورت گسترده بنویسید.

$6039 = \dots + \dots + \dots$

$2654 = \dots + \dots + \dots + \dots$

۵- عدد های داخل دایره به کدام یک از مربع ها نزدیک تر است؟ آنها را رنگ بزنید.



۶- الف) ۴ کیلومتر چند متر است؟

ب) ۲۰۰ سانتی متر چند متر است؟

ج) ۴۶۰ سانتی متر متر و سانتی متر است.

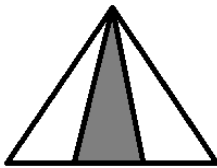
د) ۲۷۰۰ گرم کیلو گرم و گرم است.

ه) ۵۰۰۰ ریال چند تومان است؟

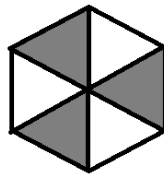
۷- الف) کوچکترین عدد چهار رقمی کدام است؟

ب) بزرگترین عدد چهار رقمی بدون تکرار رقم ها کدام است؟


۸- شکل های زیر چه کسری را نشان می دهند؟



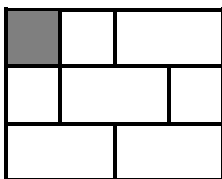
.....



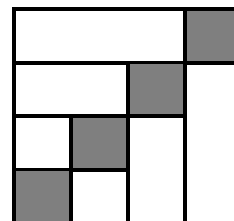
.....



.....



.....



.....

موفق و پیروز باشید - خوشدل

باز خورد معلم: