

به نام خدا

نام:

کلاس: سوم ۲

امتحان: ریاضی

نام خانوادگی:

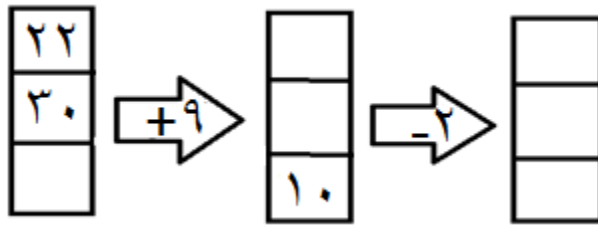
مدرسه: حاج اسد ... امید ۱

تاریخ: نیمه دوم آبان ۹۸

۱- الگوهای زیر را ادامه دهید.

۱	۶	۱۲	۱۸
۷۰	۸۵	۱۰۰	۱۱۵

۲- با توجه به کاری که هر ماشین انجام می دهد در جاهای خالی عدد مناسب بنویسید.





۳- ساعت زیر را کامل کرده و بنویسید چه زمانی را نشان می دهد.



بعد از ظهر

ساعت و دقیقه بعد از ظهر یا ساعت :

۴- تقارن شکل های زیر را بکشید.

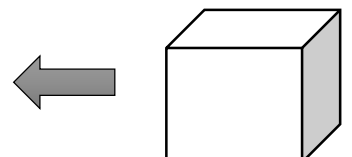


۵- یک عدد چهار رقمی بنویسید که رقم یکان آن ۵، دهگان ۹، صدگان ۰ و هزارگان ۷ باشد.

به عدد به حروف یکان | دهگان | صدگان | هزارگان

۶- عدد ۹۵۴۳ را به حروف بنویسید.

۷- باز شده ی یک مکعب مربع را بکشید.



موفق و پیروز باشید - خوشدل