








نام:	وزارت آموزش و پرورش اداره کل آموزش و پرورش استان آذربایجان غربی مدیریت آموزش و پرورش شهرستان خوی دبستان شهدای قطور 4	آزمون ورودی ریاضی																
نام خانوادگی:		مدت آزمون:																
کلاس: چهارم		تاریخ آزمون مهرماه 98																
نام آموزگار:		سال تحصیلی: 99 - 98																
ردیف	متن سوالات	بازخورد																
1	الگوهای زیر را ادامه دهید. 50 ، 70 ، 90 ، ، ، ، 120 ، 240 ، ، ، ، 1500 ، 3000 ، ، ، ، 13 ، 25 ، ، ، ،																	
2	ماشین ورودی و خروجی را کامل کنید. <table border="1" style="display: inline-table; margin-right: 20px;"> <tr><td>17</td></tr><tr><td>8</td></tr><tr><td>23</td></tr><tr><td>218</td></tr></table> $12+$ <table border="1" style="display: inline-table; margin-right: 20px;"> <tr><td>28</td></tr><tr><td> </td></tr><tr><td> </td></tr><tr><td> </td></tr></table> <table border="1" style="display: inline-table; margin-right: 20px;"> <tr><td>9</td></tr><tr><td>15</td></tr><tr><td>24</td></tr><tr><td>149</td></tr></table> $7-$ <table border="1" style="display: inline-table;"> <tr><td> </td></tr><tr><td> </td></tr><tr><td> </td></tr><tr><td> </td></tr></table>	17	8	23	218	28				9	15	24	149					
17																		
8																		
23																		
218																		
28																		
9																		
15																		
24																		
149																		
3	تقارن شکل های زیر را بکشید. 																	
4	عددهای زیر را در جدول ارزش مکانی قرار دهید. 4001 / 9675 <table border="1" style="display: inline-table; margin-right: 20px;"> <tr><td> </td><td> </td><td> </td><td> </td></tr><tr><td> </td><td> </td><td> </td><td> </td></tr><tr><td> </td><td> </td><td> </td><td> </td></tr></table>																	
5	گسترده اعداد زیر را بنویسید. $3957=$ $6693=$ $7110=$																	
6	ضربهای زیر را حل کنید. $6*9=$ $6*4=$ $8*6=$ $8*4=$ $9*4=$ $6*7=$ $9*7=$ $4*4=$ $8*9=$ $8*5=$																	
7	برای شکلهای زیر کسر، و برای کسرهای زیر شکل بکشید. 																	

	$\frac{2}{8}$	$\frac{3}{5}$	$\frac{8}{12}$	$\frac{7}{20}$					
				<p>محیط شکل‌های زیر را به دست آورید.</p> 	8				
	<p>اعداد را به حروف و حروف را به اعداد بنویسید.</p> <table border="1" style="width: 100%;"> <tr> <td>سه هزار و چهارده:</td> <td>شش هزار و دویست و چهل و پنج:</td> </tr> <tr> <td>7400 =</td> <td>5203 =</td> </tr> </table>				سه هزار و چهارده:	شش هزار و دویست و چهل و پنج:	7400 =	5203 =	9
سه هزار و چهارده:	شش هزار و دویست و چهل و پنج:								
7400 =	5203 =								
	<p>بازخورد آموزگار:</p>  <p>موفق و سربلند باشید.</p>		<input type="radio"/> خیلی خوب <input type="radio"/> خوب <input type="radio"/> قابل قبول <input type="radio"/> نیاز به تلاش						