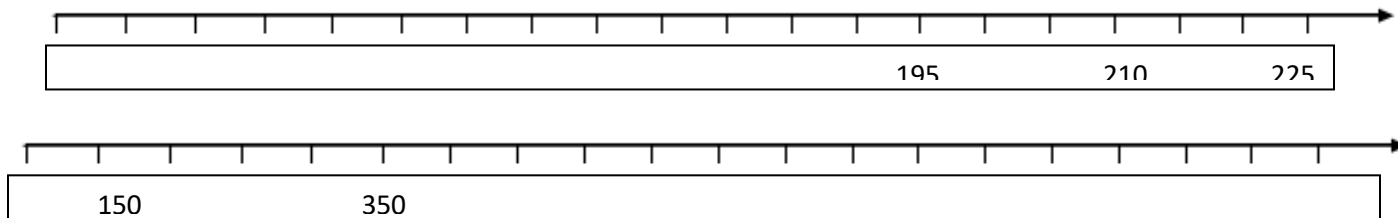


1- هر یک از محورها را با نوشتن عددها کامل کنید .



2- در جای خالی عدد مناسب بنویسید .

560 ریال برابر است با ..... سکه ی 10 ریالی .

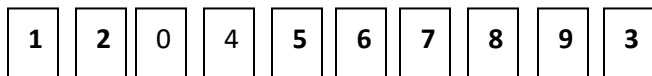
670 سکه ی یک ریالی برابر است با ..... سکه ی 100 ریالی و ..... سکه ی 10 ریالی .

509 یعنی ..... صدتایی و ..... ده تایی و ..... یکی .

482 یعنی ..... ده تایی و ..... صدتایی و ..... یکی .

..... یعنی 7 یکی و 6 صدتایی و 1 ده تایی .

3- زهرا کارت های عدد خود را به صورت زیر گذاشته است . اگر او جای کارت ها را عوض نکند ، چند عدد سه رقمی



می تواند بنویسد ؟ ..... آن ها را بنویسید .

4- محور زیر را با الگوی صد تا صد تا کامل کنید ، سپس با کمک محور تشخیص دهید هر عدد به کدام صدتایی

نزدیک تر است .



254 → .....

117 → .....

738 → .....

269 → .....

3	2	7	9	2	3
1	4	1	2	0	4
9	7	6	4	1	2
6	7	3	5	3	8
9	6	7	1	0	9

5- در جدول زیر عددها را به صورت افقی (از چپ به راست) یا عمودی (از بالا به پایین) پیدا کن و دور آن خط بکش.

چهار صد و پنجاه و یک

سی صد و نوزده

نویست و هشتاد و نه

هفت صد و نود و دو

صد و بیست

نه صد و شصت و هفت

شش صد و هفتاد و سه

6- عددهای سمت چپ را با حذف رقم یکان و عددهای سمت راست را با حذف دهگان بنویسید.

635 → .....

596 → .....

143 → .....

304 → .....

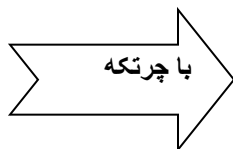
297 → .....

457 → .....

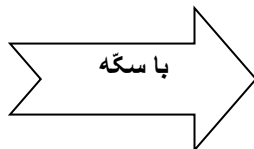
حاصل جمع کدام دو عدد بالا به طور تقریبی 800 می شود؟ ..... و .....

7- هر عدد را به صورت های مختلف نمایش دهید.

658



403



270



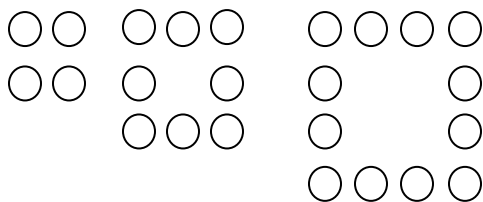
8- با سکه های 50 ، 100 و 500 ریالی به چند روش می توانید 700 ریال درست کنید . یک نمونه نشان داده شده است ، شما هم سه نمونه ی دیگر را با نوشتن جمع درست کنید . ( می توانید از یک سکه چند بار استفاده کرده و یا از سکه ای استفاده نکنید )



.....  
 .....

$$500 + 100 + 50 + 50 = 700$$

9- الگوی عددی را با کمک شکل ادامه دهید .



..... - ..... - ..... - 12 - 8 - 4

10- جدول را کامل کنید و با کمک آن حاصل جمع و تفریق ها را بنویسید .

91	92					98		
				105				
					116			

$$98 + 7 = \dots\dots \quad 96 + 9 = \dots\dots \quad 102 - 5 = \dots\dots$$

$$112 - 9 = \dots\dots \quad 107 + 6 = \dots\dots \quad 1.9 + 8 = \dots\dots$$

11- با کارت های رقم 3 و 9 و 4 هرچه می توانید عدد سه رقمی بنویسید. ( با راهبرد الگوسازی یا تفکر نظام دار)

حالا از میان عددهایی که نوشته اید ، حالت های زیر را پیدا کنید .

اعدادی که حاصل جمع دهگان و صدگان آن ها کم تر از یکان باشد .

.....

عددی که صدگان کم تر از یکان ولی بیش تر از دهگان باشد .

12- با رقم های 5 و 0 هرچه می توانید عدد سه رقمی بنویسید .





.....

در کدام عدد بالا یکان برابر با صدگان است ؟ ..... آن را به حروف بنویسید .

.....

## بازی و ریاضی

😊 از شماره ی 2 شروع کنید و خانه هایی را که عددها دوتا دوتا زیاد می شوند به هم وصل کنید تا این دو خرس را به هم برسانید .

۲۴	۲۲	۱۶	۱۴					۸۸	۹۰
۲۶	۲۰	۱۸	۱۲				۸۴	۸۶	۹۲
۲۸	۳۰	۳۲	۱۰				۸۲	۸۰	۹۴
۴۲	۴۰	۳۴	۸	۲۲	۷۲	۷۴	۷۶	۷۸	۹۶
۴۴	۳۸	۳۶	۶	۴	۷۰	۱۱۶	۱۱۴	۱۰۰	۹۸
۴۶	۶۰	۶۲	۶۴	۶۶	۶۸	۱۱۸	۱۱۲	۱۰۲	۱۰۴
۴۸	۵۸	۵۶	۱۷۴	۱۷۲	۱۷۰	۱۲۰	۱۱۰	۱۰۸	۱۰۶
۵۰	۵۲	۵۴	۱۷۶	۱۶۶	۱۶۸	۱۲۲	۱۲۴	۱۳۰	۱۳۲
۱۸۸	۱۸۶	۱۸۰	۱۷۸	۱۶۴	۱۶۲	۱۶۰	۱۲۶	۱۲۸	۱۳۴
۱۹۰	۱۸۴	۱۸۲				۱۵۸	۱۵۶	۱۵۴	۱۳۶
۱۹۲	۱۹۸	۲۰۰				۱۴۸	۱۵۰	۱۵۲	۱۳۸
۱۹۴	۱۹۶					۱۴۶	۱۴۴	۱۴۲	۱۴۰

دوستان دانا،

سرافراز باشید .