
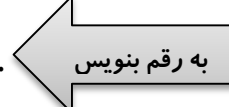

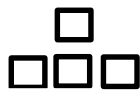
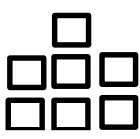
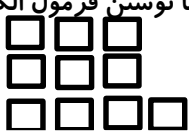
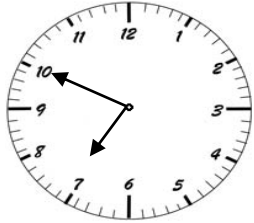



نام و نام خانوادگی :
ارزشیابی دی ماه
پایه چهارم یک و سه

به نام خدا
آموزش و پرورش شهرستان خوی
دبستان شهید بابالو
آزمون ریاضی

تاریخ : ۹۷/۱۱/۱
نام معلم : آقای گلوانی

امتیاز	سوالات	ردیف																		
	<p>به حروف و رقم بنویسید.</p> <p>۲۰۰۵۰۷۰۹  به حروف بنویس ،</p> <p>.....  به رقم بنویس</p> <p>ششصد و دو میلیون و چهارده هزار و نهصد و سی</p> <p> گسترده بنویس ، $۸۷۰۵۰۳ =$</p>	۱																		
	<p>با توجه به عدد (۳۲۷۸۱۰۴۹) به سوالات زیر پاسخ دهید.</p> <p>الف) این عدد را در جدول ارزش مکانی قرار دهید.</p> <table border="1" data-bbox="162 735 682 882"> <tr> <td colspan="3">میلیون</td> <td colspan="3">هزار</td> <td colspan="3"></td> </tr> <tr> <td>ص</td><td>د</td><td>ی</td> <td>ص</td><td>د</td><td>ی</td> <td>ص</td><td>د</td><td>ی</td> </tr> </table> <p>ب) رقم های (۱) و (۷) ، در چه ارزش مکانی قرار دارند؟</p> <p>ج) کدام رقم، کم ترین ارزش مکانی را دارد؟</p> <p>د) حاصل جمع رقم های دهگان میلیون و صدگان هزار چقدر است؟</p>	میلیون			هزار						ص	د	ی	ص	د	ی	ص	د	ی	۲
میلیون			هزار																	
ص	د	ی	ص	د	ی	ص	د	ی												
	<p>جاهای خالی را پر کنید.</p> <p>ربع عدد ۲۰ می شود ثلث یک ساعت، چند دقیقه می شود</p> <p>صدتا بسته ده هزار تایی برابر است با $\frac{2}{17}$ تا ۶ می شود</p>	۳																		
	<p>ماشین های ورودی - خروجی زیر را کامل کنید.</p> <div style="display: flex; justify-content: space-around; align-items: center;"> <div style="text-align: center;"> <table border="1" style="border-collapse: collapse;"> <tr><td style="height: 40px;"></td></tr> <tr><td style="text-align: center;">۵</td></tr> <tr><td style="height: 40px;"></td></tr> </table> <p>$+7$ \rightarrow -3 \rightarrow</p> <table border="1" style="border-collapse: collapse;"> <tr><td style="text-align: center;">۸</td></tr> <tr><td style="height: 40px;"></td></tr> <tr><td style="text-align: center;">۱۱</td></tr> </table> </div> <div style="text-align: center;"> <table border="1" style="border-collapse: collapse;"> <tr><td style="text-align: center;">۴</td></tr> <tr><td style="height: 40px;"></td></tr> <tr><td style="text-align: center;">۷</td></tr> </table> <p>$\times 2$ \rightarrow $+4$ \rightarrow</p> <table border="1" style="border-collapse: collapse;"> <tr><td style="height: 40px;"></td></tr> <tr><td style="text-align: center;">۲۲</td></tr> <tr><td style="height: 40px;"></td></tr> </table> </div> </div>		۵		۸		۱۱	۴		۷		۲۲		۴						
۵																				
۸																				
۱۱																				
۴																				
۷																				
۲۲																				
	<p>الگوهای زیر را تا سه مرحله ادامه دهید .</p> <p>۲ ، ۷ ، ۱۲ ، ، ،</p> <p>۵۶ ، ۴۷ ، ۳۸ ، ۲۹ ، ، ،</p>	۵																		

	<p>با توجه به رقم های (۳ ، ۷ ، ۰ ، ۴ ، ۸ ، ۵) به سوالات زیر پاسخ دهید.</p> <p>الف) بزرگترین عدد ۶ رقمی را بنویسید.</p> <p>ب) کوچکترین عدد ۶ رقمی <u>فرد</u> را بنویسید.</p>	۶
	<p>با توجه به الگوی زیر، شکل پنجاهم از چند مربع تشکیل شده است؟ (با نوشتن فرمول الگو)</p> <div style="display: flex; justify-content: space-around; align-items: flex-end;"> <div style="text-align: center;">  <p>شکل (۱)</p> </div> <div style="text-align: center;">  <p>شکل (۲)</p> </div> <div style="text-align: center;">  <p>شکل (۳)</p> </div> <div style="text-align: center;"> <p>؟</p> <p>شکل (۵۰)</p> </div> </div>	۷
	<p>برای هریک از کسره های زیر، دو کسر مساوی بنویسید.</p> <div style="display: flex; justify-content: space-around; align-items: center;"> <div style="text-align: center;"> $\frac{2}{5} =$ </div> <div style="text-align: center;"> $\frac{3}{4} =$ </div> </div>	۸
	<p>کسره های زیر را تا جایی که ممکن است ساده کنید.</p> <div style="display: flex; justify-content: space-around; align-items: center;"> <div style="text-align: center;"> $\frac{12}{18} =$ </div> <div style="text-align: center;"> $\frac{18}{30} =$ </div> </div>	۹
	<p>برای هر یک از شکل های زیر ، عدد مخلوط بنویسید.</p> <div style="display: flex; justify-content: space-around; align-items: center;"> <div style="text-align: center;">  </div> <div style="text-align: center;">  </div> </div>	۱۰
	<p>مقایسه کنید. (< = >)</p> <div style="display: flex; justify-content: space-between; align-items: flex-start;"> <div style="text-align: center;"> $\frac{7}{11} \bigcirc \frac{6}{11}$ </div> <div style="text-align: center;"> $\frac{3}{5} \bigcirc \frac{10}{15}$ </div> <div style="text-align: center;"> $۷۴۲۵۳۰ \bigcirc ۷۴۲۵۲۱$ </div> <div style="text-align: center;"> $۹۹۹۹ \bigcirc ۱۰۰۰۰$ </div> </div> <div style="display: flex; justify-content: space-between; align-items: flex-start; margin-top: 20px;"> <div style="text-align: center;"> $\frac{3}{8} \bigcirc \frac{2}{8}$ </div> <div style="text-align: center;"> $\frac{5}{9} \bigcirc \frac{5}{8}$ </div> <div style="text-align: center;"> $\frac{7}{14} \bigcirc \frac{0}{15}$ </div> <div style="text-align: center;"> $\frac{2}{3} \bigcirc \frac{14}{21}$ </div> </div>	۱۱

فرآیندی

$$۲۶ \times ۵۷ =$$

تکنیکی

$$۸۳۷ \times ۳۲ =$$

مساحتی

$$۳۵ \times ۴۹ =$$

شاد و خندان باشید - گلوانی

جمع امتیاز



نیاز به تلاش بیشتر



قابل قبول



خوب



خیلی خوب : بازخورد معلم

بازخورد اولیا :

