

به نام خدا

نام و نام خانوادگی:

پایه دوم

تاریخ:

ریاضی

۱- رضا هر شب ساعت ۹ کتاب می خواند و نیم ساعت بعد از آن می خوابد ، رضا چه ساعتی می خوابد؟
(ساعت رسم کن و زمان را روی آن نشان بده.)

۲- ساعت چند است؟

* نیم ساعت بعد از ۸

.....

* نیم ساعت مانده به ۱۰

.....

* یک ربع بعد از ۴

.....

* یک ربع مانده به ۱۲

.....

۳- ابتدا مانند نمونه ، ترتیب و مقدار افزایش هر عدد را بنویس و سپس ۴ عدد بعدی را ادامه بده.

۰ ، ۵ ، ۱۵ ، ۲۰ ، ۳۰ ، ، ، ،
+۵ +۱۰ +۵ +۱۰

۱ ، ۳ ، ۷ ، ۱۳ ، ، ، ،


۲ ، ۲:۳۰ ، ۳ ، ۳:۳۰ ، ۴ ، ، ، ،

۴- با توجه به شکل ها جاهای خالی را کامل کن.

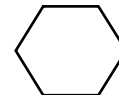
..... گوشه و ضلع دارد.



۴ گوشه و دارد. هر دو ضلع رو به رو با هم است.



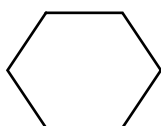
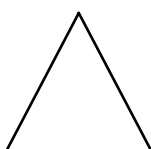
..... و دارد.



۴ گوشه و مساوی دارد.



۵- تفاوت و شباهت شکل های هندسی رو به رو را بنویس. (بر اساس ضلع و گوشه)



شباهت:

تفاوت:

به نام خدا

نام و نام خانوادگی:

پایه دوم

تاریخ:

ریاضی

۶- اعدادی که دهگان ۹ دارند را به هم وصل کن و نام شکلی را که به وجود می آید بنویس.

۵۹ ● ۹۸ ● ۹۹ ● ۳۹ ●

۹۱ ● ۲۹ ● ۶۹ ● ۹۳ ●

۴۹ ● ۹۶ ● ۹۰ ● ۱۹ ●

۷- الگوی عددی و هندسی زیر را کامل کنید.

شکل اول



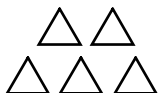
۱

شکل دوم



۳

شکل سوم



..... ،

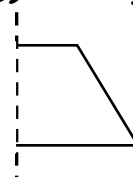
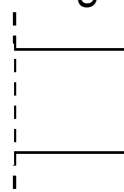
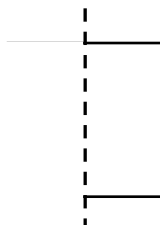
شکل چهارم

..... ،

شکل پنجم

.....

۸- با توجه به خط تقارن شکل ها را کامل کن.



۹- حاصل جمع و تفریق را با رسم شکل به دست آورید.

$$\begin{array}{r} ۳۵ \\ + ۴۹ \\ \hline \end{array}$$

$$\begin{array}{r} ۶۳ \\ - ۴۸ \\ \hline \end{array}$$

۱۰- جمع و تفریق های زیر را انجام دهید. ابتدا به صورت تقریبی بنویسید و بعد جواب را به دست آورید.

$$\begin{array}{r} ۴۸ \rightarrow \dots\dots\dots \\ + ۳۲ \rightarrow \dots\dots\dots \\ \hline \end{array}$$

$$\begin{array}{r} ۹۲ \rightarrow \dots\dots\dots \\ - ۳۸ \rightarrow \dots\dots\dots \\ \hline \end{array}$$