
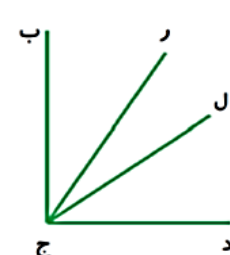







امتیاز	سوالات	ردیف
	<p>اندازه ی زاویه های زیر را بنویسید.</p>  <p>..... درجه</p> <p>..... درجه</p> <p>..... درجه</p>	۱
	<p>۲. در شکل زیر، چند زاویه وجود دارد ؟ آنها را نام ببرید؟</p>  <p>نام زاویه ها :</p> <p>.....</p>	۲
	<p>جمع و تفریق مربوط به هر شکل را انجام دهید.</p>  <p>..... - =</p>  <p>..... + =</p>	۳
	<p>اندازه ی زاویه های مورد نظر را بنویسید.</p>  <p>..... درجه</p> <p>..... درجه</p>	۴
	<p>یک زاویه ی راست را به دو قسمت تقسیم کرده ایم، اگر یکی از قسمت ها ۳۰ درجه باشد ، قسمت دیگر چند درجه است؟</p>	۵

به سوالات زیر با دقت پاسخ دهید؟

۶



الف) یک ساعت و ۲۰ دقیقه چند ثانیه است؟

ب) ۹۴۸ ثانیه چند دقیقه و چند ثانیه است؟

ج) ۵۰ دقیقه بعد و ۵۰ دقیقه قبل از ساعت ۴:۲۰ دقیقه را پیدا کنید.

قبل بعد

۷

۷. یک هواپیما در ساعت ۲:۱۵ دقیقه از تهران پرواز کرد و در ساعت ۳:۵۰ دقیقه در جزیره ی قشم به زمین

نشست. مدت پرواز این هواپیما چند دقیقه بوده است؟

مدت این پرواز..... دقیقه بوده است . یعنی ساعت و دقیقه

۸

۸. با توجه به شکل به سوالات زیر پاسخ دهید؟



الف) طول نوار «آ» چند برابر طول نوار «ب» است؟



ب) طول نوار «ب» چه کسری از نوار «آ» است؟

۹

الف) به حروف و رقم بنویسید.

هفتصد و هفده میلیون و چهارده هزار و نه

۲۴۰۰۵۵۰۰

$$6812 \overline{) 7}$$

$$802 \overline{) 59}$$

ب) ضرب و تقسیم زیر را حل کنید.

$$\begin{array}{r} 650 \\ \times 310 \\ \hline \end{array}$$

شاد و خندان باشید - گلوانی

جمع امتیاز



نیاز به تلاش بیشتر



قابل قبول



خوب



خیلی خوب : معلم

بازخورد اولیا :

