



امتیاز	سوالات	ردیف																								
	<p>شکل بعدی الگوی زیر را بکشید و توضیح دهید چه رابطه ای بین شکل ها وجود دارد؟</p> <p>توضیح:</p> <p>.....</p> <p>.....</p> <p>(۱) (۳) (۵) ()</p>	۱																								
	<p>الگوهای عددی زیر را کامل کنید. (با رسم فلش و راه حل)</p> <p>..... و و و ۴۰ و ۴۸ و ۵۶</p> <p>..... و و ۹ و ۶ و ۴ و ۳</p>	۲																								
	<p>قطاری ۷ واگن دارد و در هر واگن، ۲ کوپه وجود دارد و در هر کوپه ۴ مسافر نشسته است.</p> <table border="1" data-bbox="142 949 896 1192"> <tr> <td>واگن</td> <td>۱</td> <td>۲</td> <td>۳</td> <td>۴</td> <td>۵</td> <td>۶</td> <td>۷</td> </tr> <tr> <td>کوپه</td> <td>۲</td> <td></td> <td></td> <td></td> <td></td> <td></td> <td></td> </tr> <tr> <td>مسافر</td> <td>۸</td> <td></td> <td></td> <td></td> <td></td> <td></td> <td></td> </tr> </table> <p>الف) در ۶ واگن، چند کوپه وجود دارد؟</p> <p>ب) در ۳ واگن، چند مسافر نشسته است؟</p> <p>ج) در ۵ واگن، چند مسافر نشسته است؟</p>	واگن	۱	۲	۳	۴	۵	۶	۷	کوپه	۲							مسافر	۸							۳
واگن	۱	۲	۳	۴	۵	۶	۷																			
کوپه	۲																									
مسافر	۸																									
	<p>شکل های زیر را دسته بندی کنید و برای هر کدام الگوی شمارش و یک جمع بنویسید.</p> <p>الگو:</p> <p>جمع:</p> <p>الگو:</p> <p>جمع:</p>	۴																								
	<p>اگر جمعه، دومین روز ماه آبان باشد. تا آخر این ماه، جمعه ها چه روزهایی از این ماه هستند؟</p>	۵																								

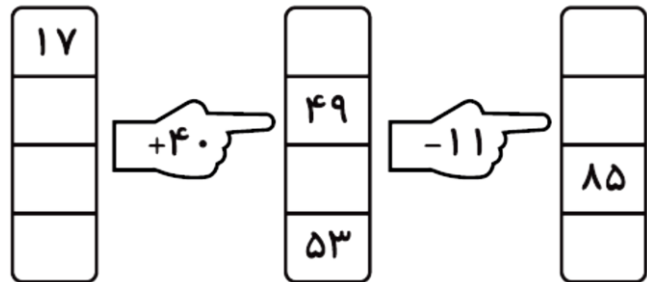
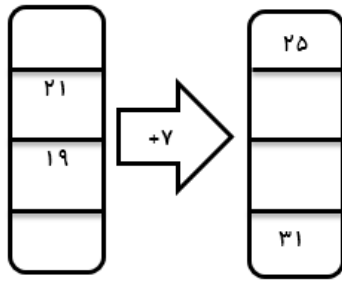
۶ حاصل جمع های زیر را بصورت ذهنی به دست آورید.

$7 + 5 + 3 =$

$4 + 5 + 1 + 5 + 9 =$

$1 + 2 + 4 + 7 + 6 + 8 + 3 =$

۷ ماشین های ورودی - خروجی زیر را کامل کنید.



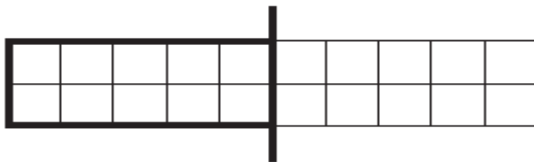
۸ جدول زیر را کامل کنید.

زمان	۲۰:۴۵		هجده ونیم		21:09	
بعدازظهر		۷:۵۰		هفت و ربع		11:23

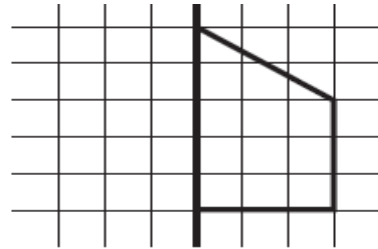
۹ اتوبوسی ساعت ۶ صبح از خوی به طرف اردبیل حرکت می کند و پس از ۱۱ ساعت به اردبیل می رسد. این اتوبوس چه زمانی به اردبیل می رسد؟

ساعت یعنی بعدازظهر

۱۰ نیمه ی دیگر شکل های زیر را بکشید و به کمک خط تقارن تعداد مربع ها را به دست آورید و کنار هر شکل بنویسید.

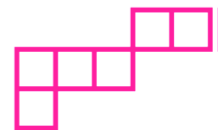
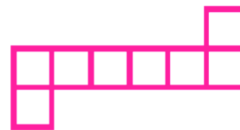




..... + =



..... + =

۱۱ کدام یک از شکل های زیر، باز شده ی یک مکعب است؟



شاد و خندان باشید - گلوانی

جمع امتیاز

نیاز به تلاش بیشتر

قابل قبول

خوب

خیلی خوب : بازخورد معلم

بازخورد اولیا :

