







	آموزگار: زمان : ۵۰ دقیقه	به نام خدا آزمون مداد کاغذی ریاضی فصل دوم	دبستان نام و نام خانوادگی :	ردیف
کامل کردنی				
	یعنی $۵۰ + ۴۰ = \dots\dots\dots$	۵ دسته ده تایی به اضافه ۴ دسته ده تایی می شود ده تایی.		۱
	یعنی $۶۰ + ۲۰ = \dots\dots\dots$	۶ دسته ده تایی به اضافه ۲ دسته ده تایی می شود ده تایی.		۲
تشریحی				
	 	 	فرزندم زمان هر ساعت را بنویس.	۳
	$\square + \square = ۹$ $\square + \square = ۹$	$\square + \square = ۹$ $\square + \square = ۹$	عزیزم در \square عددهایی بنویس که حاصل جمع آن ها ۹ شود. $\square + \square = ۹$ $\square + \square = ۹$	۴
	$۲۰ + ۷۰ = \dots\dots\dots$  $۹۰ - ۶۰ = \dots\dots\dots$ 	دلبندم حاصل هر عبارت را با کمک محور پیدا کن.	۵	

	<p>فرزندم حاصل جمع و تفریق ها را به صورت تقریبی پیدا کن.</p> $\begin{array}{r} ۷۳ \rightarrow \dots\dots\dots \\ +۱۸ \rightarrow \dots\dots\dots \\ \hline \dots\dots\dots \end{array}$ $\begin{array}{r} ۶۲ \rightarrow \dots\dots\dots \\ +۱۱ \rightarrow \dots\dots\dots \\ \hline \dots\dots\dots \end{array}$ $\begin{array}{r} ۳۶ \rightarrow \dots\dots\dots \\ +۳۱ \rightarrow \dots\dots\dots \\ \hline \dots\dots\dots \end{array}$	۶																		
	<p>ایمان از ۱۹ صفحه تمرین ریاضی ۹ صفحه آن را انجام داده است. ایمان چند صفحه از تمرین های ریاضی را انجام نداده است؟</p>	۷																		
	<p>در کتابخانه ای ۴۷ نفر مشغول خواندن کتاب بودند که ۲۴ نفر دیگر وارد کتابخانه شدند. اکنون در کتابخانه چند نفر مشغول مطالعه هستند؟</p>	۸																		
	<p>مهربانم در خانه های جدول عدد مناسب بنویس.</p> <table border="1" data-bbox="604 835 1084 1100"> <tr> <td></td> <td></td> <td>۴</td> <td>۵</td> <td>۶</td> <td>۷</td> </tr> <tr> <td></td> <td>۹</td> <td></td> <td></td> <td></td> <td></td> </tr> <tr> <td></td> <td>۸</td> <td></td> <td></td> <td></td> <td></td> </tr> </table>			۴	۵	۶	۷		۹						۸					۹
		۴	۵	۶	۷															
	۹																			
	۸																			
	<p>مانند نمونه انجام بده.</p> $\begin{array}{r} ۲۵ \\ +۱۳ \\ \hline ۳۵ \\ + ۳ \\ \hline \end{array}$ $\begin{array}{r} ۳۵ \\ +۱۴ \\ \hline \\ + \\ \hline \end{array}$ $\begin{array}{r} ۴۲ \\ +۳۴ \\ \hline \\ + \\ \hline \end{array}$ $\begin{array}{r} ۶۱ \\ +۲۱ \\ \hline \\ + \\ \hline \end{array}$	۱۰																		
	<p>نازنینم مانند نمونه انجام بده.</p> $\begin{array}{r} ۴۵ \\ -۱۹ \\ \hline ۲۵ \\ - ۹ \\ \hline \end{array}$ $\begin{array}{r} ۷۵ \\ -۱۶ \\ \hline \\ - \\ \hline \end{array}$ $\begin{array}{r} ۷۲ \\ -۱۸ \\ \hline \\ - \\ \hline \end{array}$ $\begin{array}{r} ۳۶ \\ -۲۱ \\ \hline \\ - \\ \hline \end{array}$	۱۱																		

بازخورد آموزگار :

بازخورد